

Mon questionnaire

Quel a été la meilleure manche?	-
Quel est le nombre de points du jet 3 de la manche 2.	-
Durant la manche 2, quel a été le meilleur jet ?	-
Durant la manche 1, quel a été le moins bon jet ?	-
Quel jour et au cours de quel jet les 100 points ont-ils été atteints ?	- - -
Quel est le meilleur jet de la partie, quel jour et au cours de quel jet a-t-il été réalisé ?	- - -

Prénom

Max

Niveau de difficulté

Nombre de
fléchettes

2

double

3

triple

Nombre de
manches

2

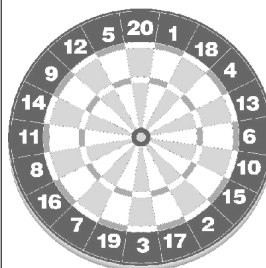
3

4

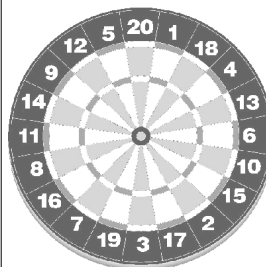
Rappel

- Calculer chaque jet (calcul mental ou posé si nécessaire).
- Compléter le tableau (jets trouvés et totaux des manches).
- Répondre au questionnaire.

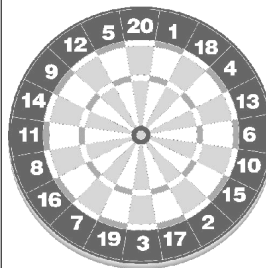
Partie 1 / Manche 1



Points du jet 1 / Correction

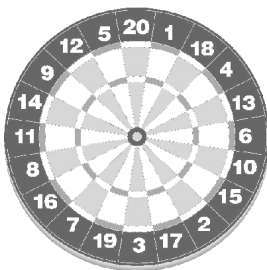


Points du jet 2 / Correction

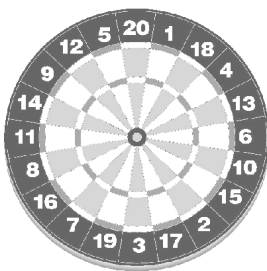


Points du jet 3 / Correction

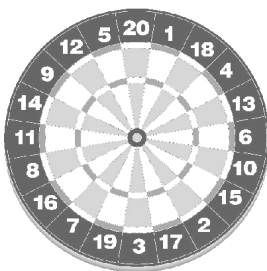
Partie 1 / Manche 2



Points du jet 1 / Correction

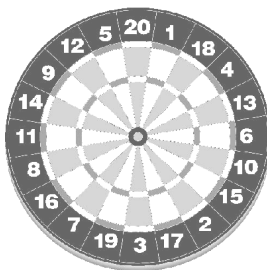


Points du jet 2 / Correction

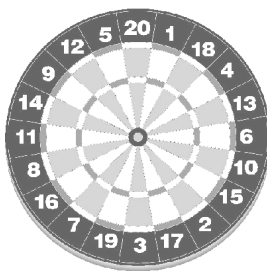


Points du jet 3 / Correction

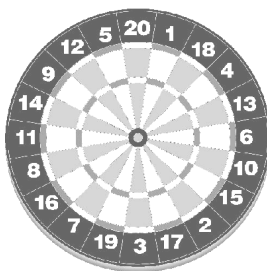
Partie 1 / Manche 3



Points du jet 1 / Correction

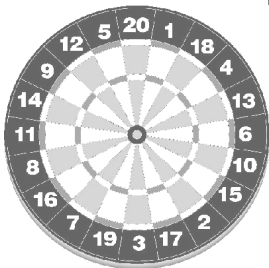


Points du jet 2 / Correction

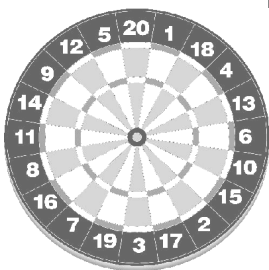


Points du jet 3 / Correction

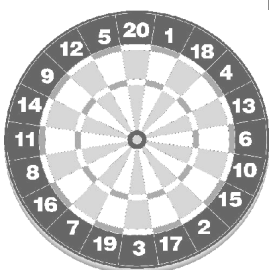
Partie 1 / Manche 4



Points du jet 1 / Correction



Points du jet 2 / Correction



Points du jet 3 / Correction

Mon tableau de scores

**Partie
1**

	<i>Manche1</i>	<i>Manche2</i>	<i>Manche3</i>	<i>Manche4</i>																																																																																																																																																
<i>Jet 1</i>																																																																																																																																																				
<i>Jet 2</i>																																																																																																																																																				
<i>Jet 3</i>																																																																																																																																																				
<i>Total du lancer</i>	<table border="1"> <tr><td> </td><td> </td><td> </td><td> </td></tr> <tr><td> </td><td> </td><td> </td><td> </td></tr> <tr><td> </td><td> </td><td> </td><td> </td></tr> <tr><td> </td><td> </td><td> </td><td> </td></tr> <tr><td> </td><td> </td><td> </td><td> </td></tr> <tr><td> </td><td> </td><td> </td><td> </td></tr> <tr><td> </td><td> </td><td> </td><td> </td></tr> <tr><td> </td><td> </td><td> </td><td> </td></tr> <tr><td> </td><td> </td><td> </td><td> </td></tr> </table>																																					<table border="1"> <tr><td> </td><td> </td><td> </td><td> </td></tr> <tr><td> </td><td> </td><td> </td><td> </td></tr> <tr><td> </td><td> </td><td> </td><td> </td></tr> <tr><td> </td><td> </td><td> </td><td> </td></tr> <tr><td> </td><td> </td><td> </td><td> </td></tr> <tr><td> </td><td> </td><td> </td><td> </td></tr> <tr><td> </td><td> </td><td> </td><td> </td></tr> <tr><td> </td><td> </td><td> </td><td> </td></tr> <tr><td> </td><td> </td><td> </td><td> </td></tr> </table>																																					<table border="1"> <tr><td> </td><td> </td><td> </td><td> </td></tr> <tr><td> </td><td> </td><td> </td><td> </td></tr> <tr><td> </td><td> </td><td> </td><td> </td></tr> <tr><td> </td><td> </td><td> </td><td> </td></tr> <tr><td> </td><td> </td><td> </td><td> </td></tr> <tr><td> </td><td> </td><td> </td><td> </td></tr> <tr><td> </td><td> </td><td> </td><td> </td></tr> <tr><td> </td><td> </td><td> </td><td> </td></tr> <tr><td> </td><td> </td><td> </td><td> </td></tr> </table>																																					<table border="1"> <tr><td> </td><td> </td><td> </td><td> </td></tr> <tr><td> </td><td> </td><td> </td><td> </td></tr> <tr><td> </td><td> </td><td> </td><td> </td></tr> <tr><td> </td><td> </td><td> </td><td> </td></tr> <tr><td> </td><td> </td><td> </td><td> </td></tr> <tr><td> </td><td> </td><td> </td><td> </td></tr> <tr><td> </td><td> </td><td> </td><td> </td></tr> <tr><td> </td><td> </td><td> </td><td> </td></tr> <tr><td> </td><td> </td><td> </td><td> </td></tr> </table>																																				

<i>Total de la partie</i>	
----------------------------------	--