




SCRATCH : DES CHAUSSURES AU CRAYON

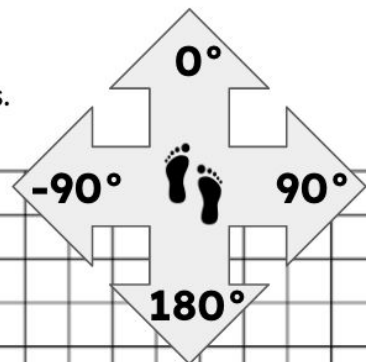
Maintenant que tu as découvert Scratch avec tes chaussures, nous te proposons de construire ces petits programmes.



PS : Ce bloc signifie que tu dois suivre le programme et écrire les déplacements effectués.



Nous nous fixons comme échelle 5 pas pour un côté.
Cela signifie que le côté d'un petit carré est égal à 5 pas.



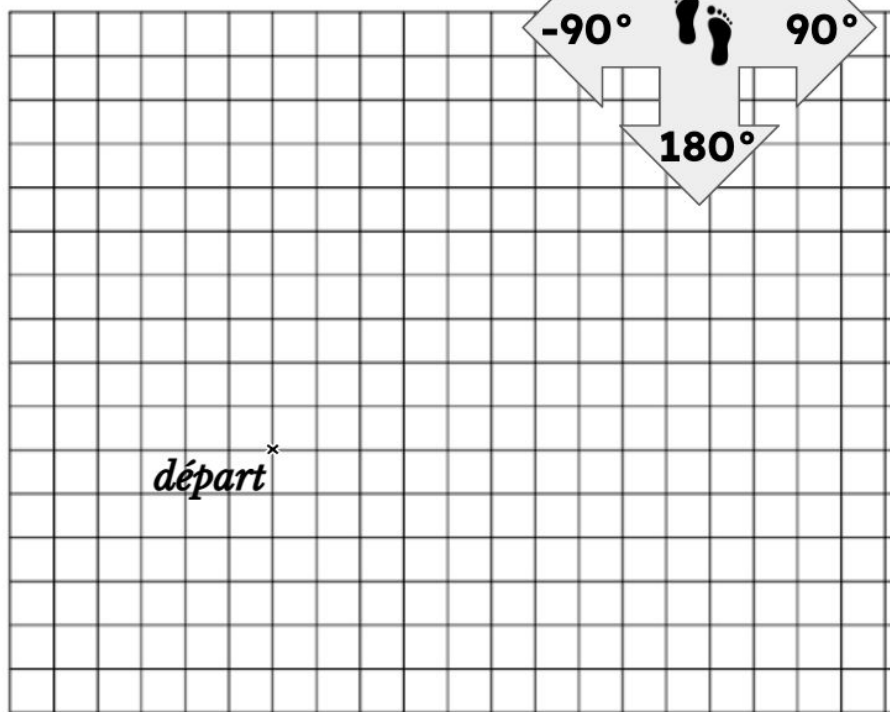
1 Suis le programme. Quelle forme obtiens-tu ?

```

quand est cliqué
  aller à x: 0 y: 0
  s'orienter à 90
  stylo en position d'écriture
  avancer de 30 pas
  s'orienter à 0
  avancer de 30 pas
  s'orienter à -90
  avancer de 30 pas
  s'orienter à 180
  avancer de 30 pas
  
```

Le programme représente :

.....



2 Suis le programme. Quelle forme obtiens-tu ?

```

quand est cliqué
  aller à x: 0 y: 0
  s'orienter à 90
  stylo en position d'écriture
  avancer de 70 pas
  s'orienter à 0
  avancer de 30 pas
  s'orienter à -90
  avancer de 70 pas
  s'orienter à 180
  avancer de 30 pas
  
```

Le programme représente :

.....

